

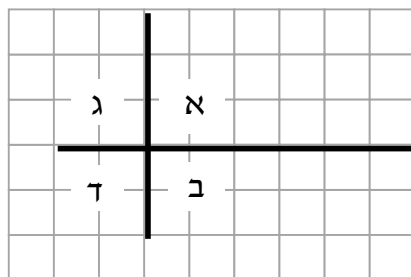
שאלון במתמטיקה סיום כיתה ג' חלק ב

שם התלמיד: _____	כיתה: _____
------------------	-------------

בהצלחה

שאלה 1


בסרטוט ארבע זוויות המסומנות באותיות א, ב, ג ו-ד.
סמנו את המשפט הנכון:



- זווית א' גדולה מזווית ג'
- זווית ג' גדולה מזווית ד'
- זווית ב' גדולה מזווית ג'
- כל הזוויות המסומנות בסרטוט שוות בגודלן

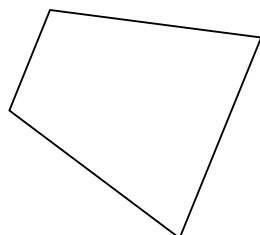
שאלה 2

סרטטו מרובע שיש בו גם
זוויות חדות וגם זוויות קהות



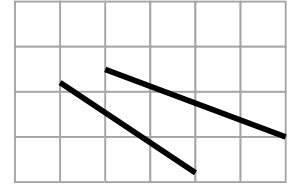
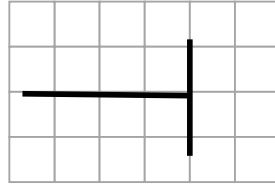
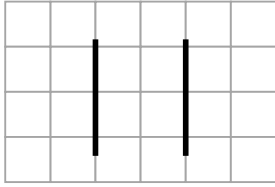
שאלה 3

צבעו במרובע זוג צלעות שמקבילות זו לזו.



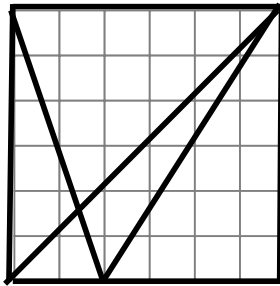
שאלה 4

סמנו את הסרטוט שהקטעים בו מאונכים זה לזה

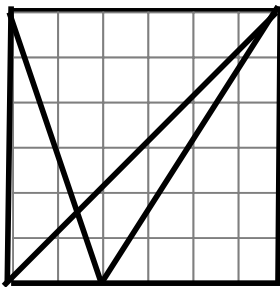


שאלה 5

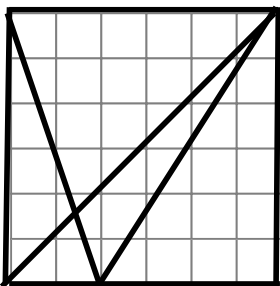
א. צבעו בסרטוט משולש חד-זוויות:



ב. צבעו בסרטוט משולש קהה-זווית:

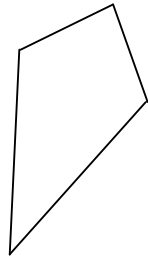


ג. צבעו בסרטוט משולש ישר-זווית שהוא גם שווה-שוקיים:

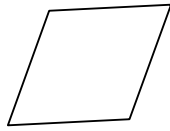


שאלה 6

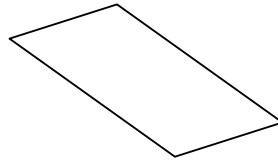
לפניכם סרטוטים של מרובעים.



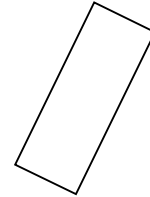
דלתון



מעוין

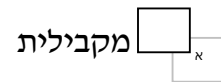
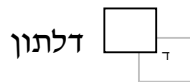


מקבילית

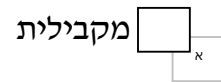


מלבן

א. סמנו את שם המרובע שכל הצלעות שלו שוות באורכן.



ב. סמנו את שם המרובע שכל הזוויות שלו שוות.

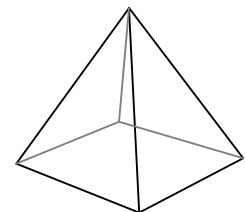
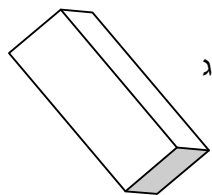


מחסן מילים

- משולש
- מלבן
- עיגול
- תיבה
- גליל
- פירמידה

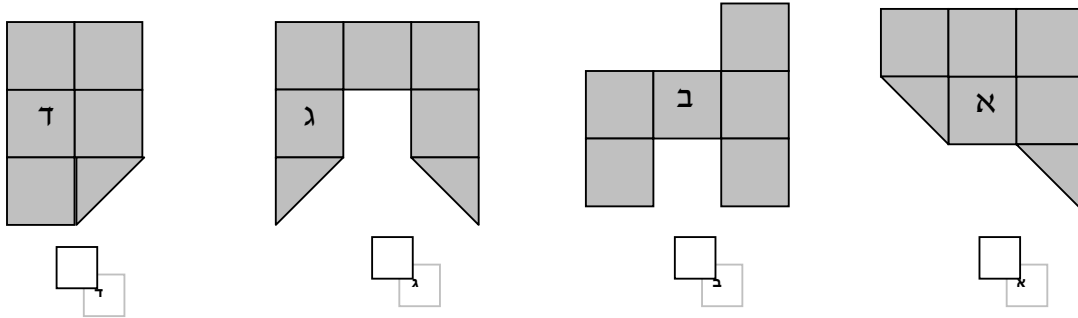
שאלה 7

במחסן המילים יש שמות של מצולעים ושל גופים שונים.
 התאימו שם, מתוך מחסן המילים, לכל אחד מהצוירים שלפניכם.

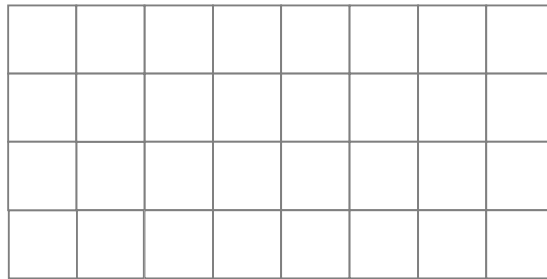


שאלה 8

א. סמנו את הצורה בעלת השטח הקטן ביותר מבין ארבעת הצורות.

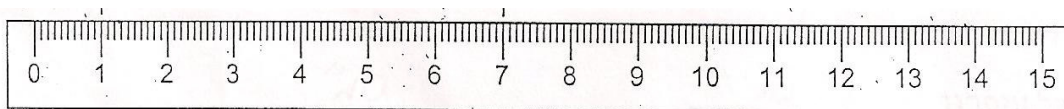


ב. סרטטו מלבן שהשטח שלו שווה לשטח צורה ב'



שאלה 9

סמנו בסרגל, בשני מקומות שונים, שני קטעים שאורך כל אחד מהם הוא 3 ס"מ. סמנו כל קטע בצבע אחר.



שאלה 10

א. היקפו של הדף עליו מודפס המבחן הוא : (סמנו את התשובה הנכונה)



- כ- 20 סנטימטרים א
- כ- 30 סנטימטרים ב
- כ- 40 סנטימטרים ג
- כ- 60 סנטימטרים ד
- כ- 1 מטר ה

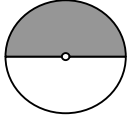
ב. הסבירו איך מצאתם את התשובה לסעיף א.

שאלה 11

בכוס שתייה אחת יש :

- בערך ליטר אחד א
- בערך 100 ליטרים ב
- פחות מחצי ליטר ג
- בערך 10 ליטרים ד

שאלה 12

איזה סרטוט נקבל אם נסובב את הסרטוט הבא :  ימינה ב- 90° ?
(סמנו את התשובה הנכונה)

