


ضرب وقسمة

كم شباكًا يوجد في العمارات؟

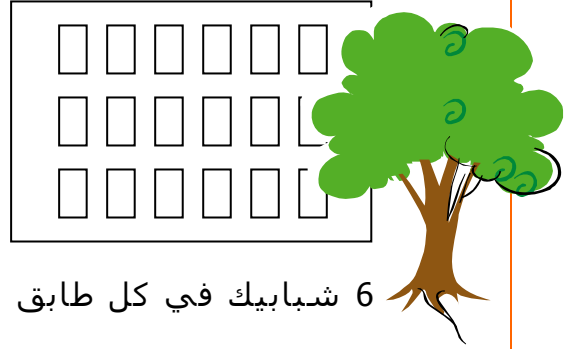
في العمارات التالية يوجد نفس عدد الشبائيك في كل طابق.
أحسبوا كم شباكًا يوجد في كل عمارة.
أكتبوا تمرين ضرب مناسب.



8 شبائيك في كل طابق


التمرين: _____

3 طوابق




6 شبائيك في كل طابق

التمرين: _____



التمرين: _____




4 طوابق

التمرين: _____


ضرب وقسمة

كم شباكًا يوجد في العمارات؟

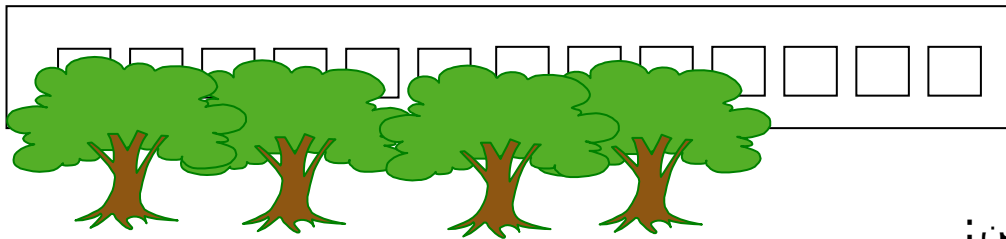
في العمارات التالية يوجد نفس عدد الشبائيك في كل طابق.
أحسبوا كم شباكًا يوجد في كل عمارة.
أكتبوا تمرين ضرب مناسب.



التمرين: _____




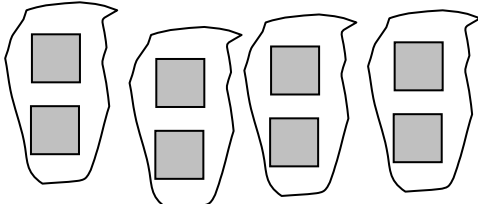


التمرين: _____



التمرين: _____

ضرب وقسمة

أكتبوا تمرين ضرب ملائم لكل رسمة:

<p>التمرين _____</p> 	<p>التمرين _____</p> 
<p>التمرين _____:</p> 	<p>التمرين _____:</p> 

ضرب وقسمة

رسومات لتمارين ضرب


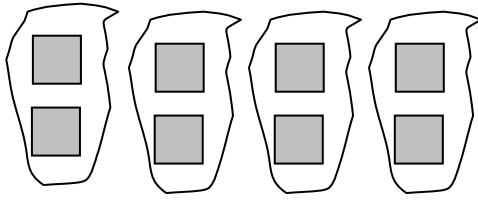


أرسموا في دفاتركم رسومات مناسبة لتمارين الضرب وللقصص.
أضيفوا تمرين ضرب ملائم لكل قصة.

أرسموا رسمة مناسبة للتمرين: $7 \times 1 =$	أرسموا رسمة مناسبة للتمرين: $5 \times 2 =$
يوجد رجلان إثنان للدجاجة الواحدة. لـ 7 دجاجات يوجد _____ رجلاً التمرين: _____	يوجد 4 أرجل للبقرة الواحدة. لـ 3 بقرات يوجد _____ رجلاً التمرين: _____
لـ 8 قطط يوجد _____ أذنان التمرين: _____	في 6 أيدي يوجد _____ أصبعًا. التمرين: _____

ضرب وقسمة

رسومات وتمارين قسمة

أكتبوا تمارين قسمة ملائم لكل رسمة:

<p>التمرين _____</p> 	<p>التمرين _____</p> 
<p>التمرين _____:</p> 	<p>التمرين _____:</p> 

ضرب وقسمة

رسومات لتمارين قسمة

أرسموا في دفاتركم رسومات مناسبة واكتبوا تمارين قسمة ملائم.

أرسموا 18 نقطة. لوّنوا كل 6 نقاط بلون مختلف. التمرين: _____	أرسموا 24 خطأ. وزّعوها في 8 مجموعات متساوية. التمرين: _____
35 أصبعًا يوجد في أيدٍ. التمرين: _____	_____ أشخاص ينتعلون 20 فردة حذاءٍ. التمرين: _____
50 شاقلاً يمكن دفعها بـ _____ قطع نقدية من فئة الـ 10 شواقل. التمرين: _____	يوجد 28 يومًا في أسابيع. التمرين: _____

ضرب وقسمة

مسائل ضرب وقسمة

أكتبوا لكل مسألة تمرين ضرب أو تمرين قسمة.
(أرسموا رسمة مناسبة إذا دعت الحاجة)

<p>يوجد 8 بنانير. 4 بنانير في كل كيس. كم كيسًا يوجد؟</p> <p>التمرين: _____</p>	<p>يوجد 4 علب. 8 ألوان في كل علبة. كم لونًا يوجد في جميع العلب؟</p> <p>التمرين: _____</p>
<p>يوجد 12 رزمة. 4 بطاقات في كل رزمة. كم بطاقة يوجد في جميع الرزمات؟</p> <p>التمرين: _____</p>	<p>يوجد 12 ولدًا. 4 أولاد في كل مجموعة. كم مجموعة يوجد؟</p> <p>التمرين: _____</p>

ضرب وقسمة


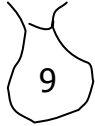
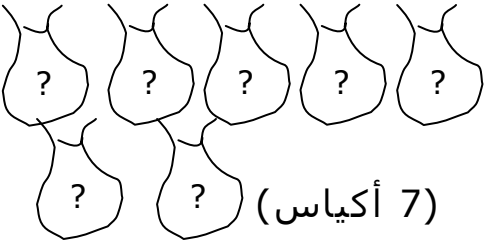
مسائل ضرب وقسمة

أكتبوا لكل مسألة تمرين ضرب أو تمرين قسمة.
(أرسموا رسمة مناسبة إذا دعت الحاجة)

<p>يوجد 8 علب علكة. قطعتان (2) من العلكة في كل علبة. كم قطعة علكة يوجد في جميع العلب؟ التمرين: _____</p>	<p>يوجد 8 عازفين في الفرقة الموسيقية. عازفان (2) وقفا في كل صف بكم صف وقف العازفون؟ التمرين: _____</p>
<p>يوجد 3 خوخات في كل علبة. اشتريت دانة 9 خوخات. كم علبة اشتريت دانة؟ التمرين: _____</p>	<p>يوجد 3 خوخات في كل علبة. كم علبة يجب أن نشترى إذا أردنا أن يكون عندنا 18 خوخة؟ التمرين: _____</p>
<p>يوجد 5 تفاحات في كل كيس. اشتري سامر 10 أكياس. كم تفاحة اشتري سامر؟ التمرين: _____</p>	<p>يوجد 5 خوخات في كل علبة. اشتري مريم 10 علب. كم خوخة اشتري مريم؟ التمرين: _____</p>



ضرب وقسمة

أكملوا المعطيات الناقصة في الجدول

يوجد 27 بنورة في جميع الأكياس.	التمرين:	كم بنورة يوجد في كل كيس؟	(3 أكياس) 
يوجد 54 بنورة في جميع الأكياس.	التمرين:	9 بنانير في كل كيس.	كم كيسًا يوجد؟ 
يوجد 56 بنورة في جميع الأكياس.	التمرين:	كم بنورة يوجد في كل كيس؟	 (7 أكياس)



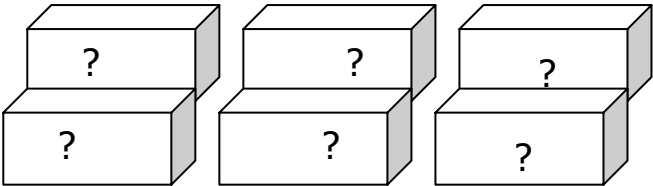
ضرب وقسمة

أكملوا المعطيات الناقصة في الجدول

يوجد 72 بنورة في جميع الأكياس.	التمرين:	8 بنانير في كل كيس. 	كم كيسًا يوجد؟
يوجد 6 بنانير في جميع الأكياس.	التمرين:	كم بنورة يوجد في كل كيس؟	 (6 أكياس)

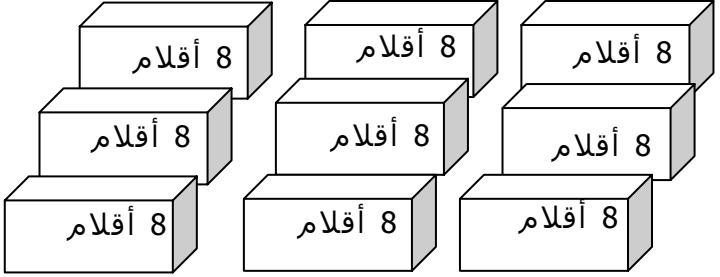

ضرب وقسمة

أكملوا المعطيات الناقصة في الجدول

كم قلمًا يوجد في كل علبة؟	التمرين:		24 قلمًا
كم علبة يوجد؟	التمرين:		32 قلمًا
كم قلمًا يوجد في كل علبة؟	التمرين:		48 قلمًا

ضرب وقسمة

أكملوا المعطيات الناقصة في الجدول

كم قلمًا يوجد في جميع العلب؟	التمرين:		
كم علبة يوجد؟	التمرين:		50 قلمًا