


ورقة عمل 1 – الصف الأول



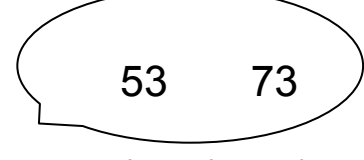
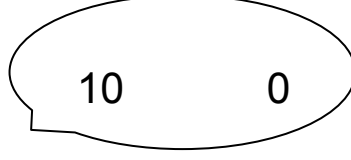
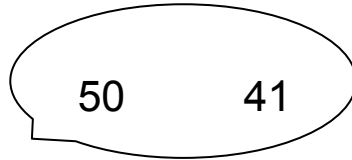
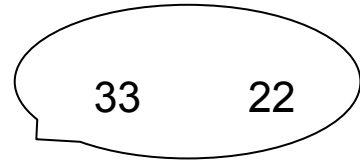
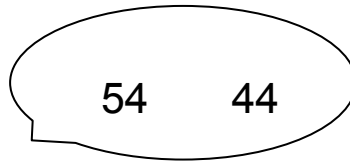
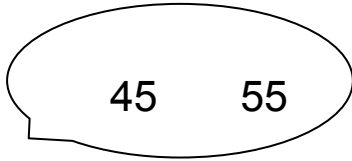
1. أكتبوا خمسة أعداد فردية أكبر من 30.

أكتبوا خمسة أعداد زوجية أصغر من 50.

2. لعب رامي وسامي لعبة إصابة الهدف. الفائز في هذه اللعبة هو من يجمع نقاط أكثر. من كان الفائز في هذه اللعبة؟

| | | | | |
|-----------|----|----|----|----|
| نقاط رامي | 20 | 15 | 10 | 15 |
| نقاط سامي | 25 | 20 | 10 | 10 |

3. لوتوا الغيمة التي تحوي عددين الفرق بينهما 10.



أكتبوا أزواج أعداد من عندكم بحيث يكون الفرق بينهما 10.

4. أكملوا الرسمة بحيث تحصلون على رسمة فيها تماثل إنعكاسي.

