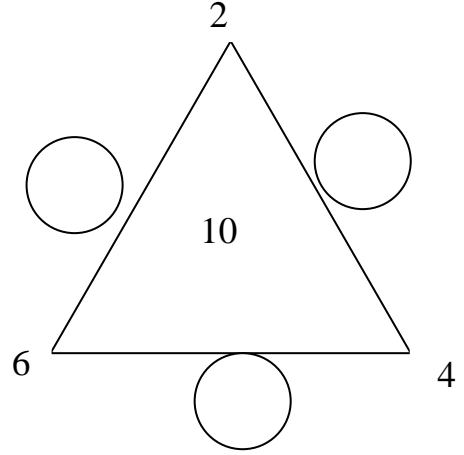
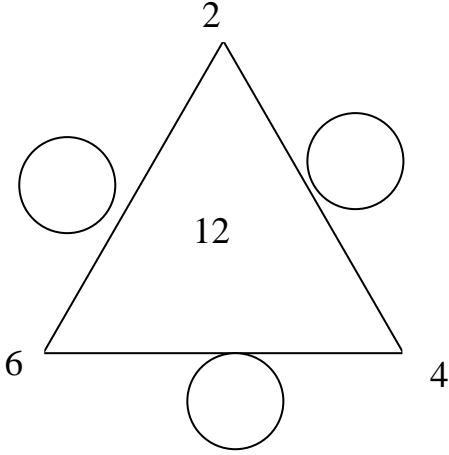
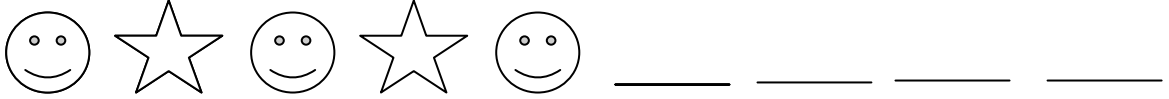


## الصف الأول – ورقة 4

1. أكتبوا عددًا في كل دائرة، بحيث يكون حاصل جمع الأعداد الثلاثة على كل ضلع يساوي العدد الذي داخل المثلث.



2. أكملوا النموذج:



الرسم في المكان الرابع هي \_\_\_\_\_

الرسم في المكان الثامن هي \_\_\_\_\_

الرسم في المكان التاسع هي \_\_\_\_\_

الرسم في المكان العشرين هي \_\_\_\_\_

الرسم في المكان الخامس والعشرين هي \_\_\_\_\_

الوجوه الضاحكة تقع في الأماكن \_\_\_\_\_

الزوجية/ الفردية

النجوم تقع في الأماكن \_\_\_\_\_

الزوجية/ الفردية