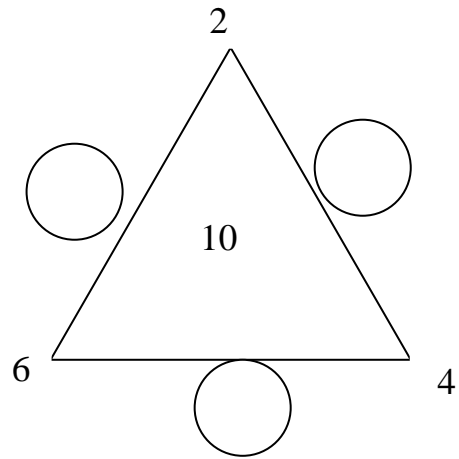
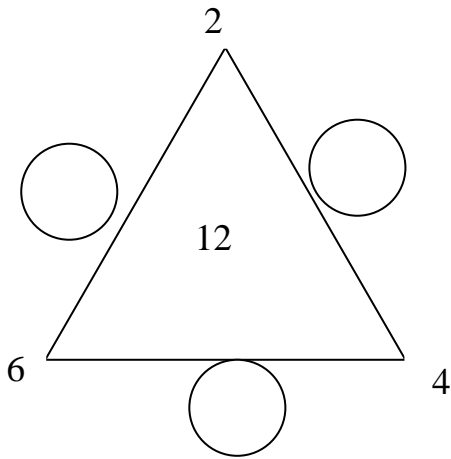
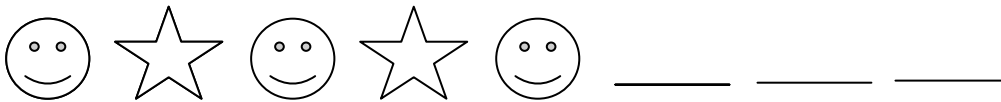


כיתה א' – דף מס' 4

1. רשמו מספר בכל עיגול כך, שסכום שלושה מספרים על כל צלע יהיה שווה למספר בתוך המשולש:



2. השלימו את הדגם:



_____ הציור במקום הרביעי הוא

_____ הציור במקום השמיני הוא

_____ הציור במקום התשיעי יהיה

_____ הציור במקום העשרים יהיה

_____ הציור במקום העשרים וחמישה יהיה

_____ החייכנים נמצאים במקומות

הזוגיים / אי-זוגיים

_____ הכוכבים נמצאים במקומות

הזוגיים / אי-זוגיים