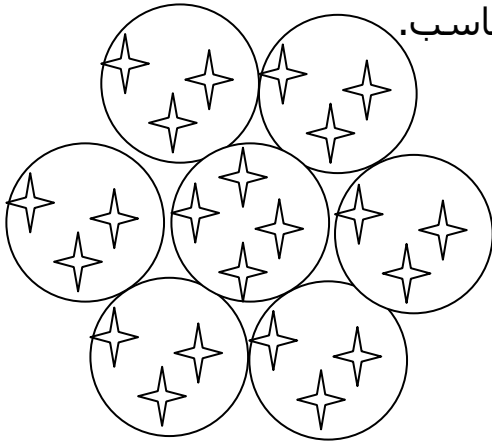


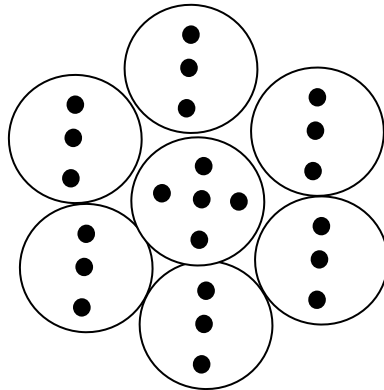
الصف الثالث – ورقة 1

1. أي تعبير من التعابير المعطاة مناسب لحساب عدد النجوم الكلي في الرسمة؟ حوّطوا الجواب المناسب.

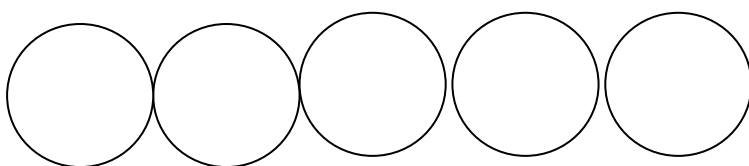
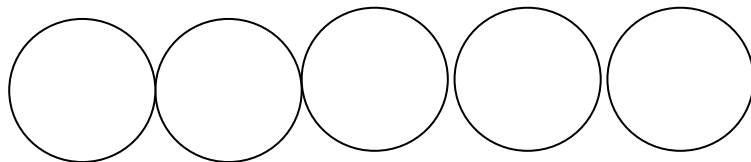


أ. $6+3+4$ ب. $6 \times 3 + 4$ ج. $7 \times 3 + 4$ د. $6 + 7 \times 3$

2. أكتبوا تمرينًا يعبر عن العدد الكلي للنقاط في الدوائر.



3. أرسموا نجومًا داخل الدوائر تناسب التعبير: $4 \times 3 + 1$



أرسموا بطريقة أخرى.