


כיתה ג' – דף מס' 1

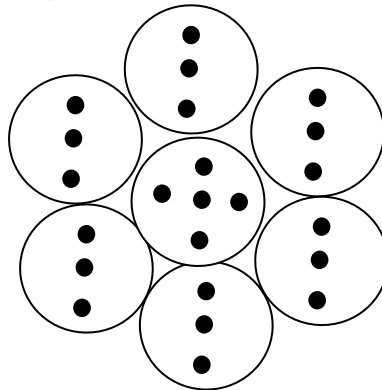
1. איזה ביטוי מהביטויים הנתונים מתאים לחישוב סך כל הכוכבים?

הקיפו את התשובה המתאימה:



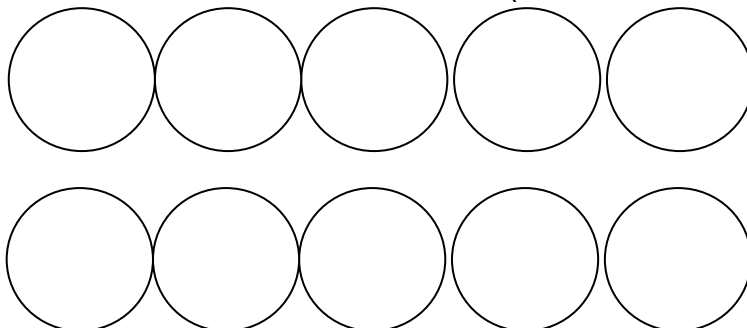
א. $6+3+4$ ב. $6 \times 3+4$ ג. $7 \times 3+4$ ד. $6 + 7 \times 3$

2. כתבו תרגיל המבטא את מספר הנקודות בתוך העיגולים.



3. ציירו כוכבים בתוך העיגולים שיתאימו לביטוי: $4 \times 3 + 1$

(לא חייבים להשתמש בכל העיגולים)



ציירו בדרך אחרת: