

## الصف الثالث – ورقة 6

1. صنّفت ريم القطع النقدية التي في حصالتها وكان ما يلي:

13 قطعة نقدية من فئة 10 شافل.

22 قطعة نقدية من فئة 1 شافل.

26 قطعة نقدية من فئة 5 شافل.

11 قطعة نقدية من فئة 2 شافل.

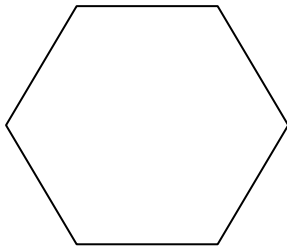
ما هو المبلغ الذي كان في حصالة ريم؟

المبلغ الذي في الحصالة: \_\_\_\_\_

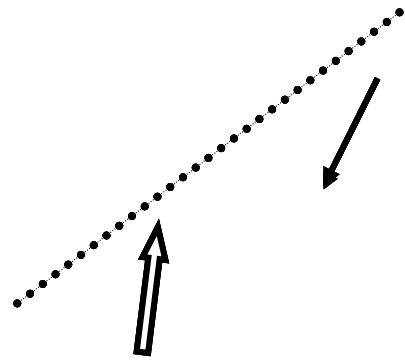
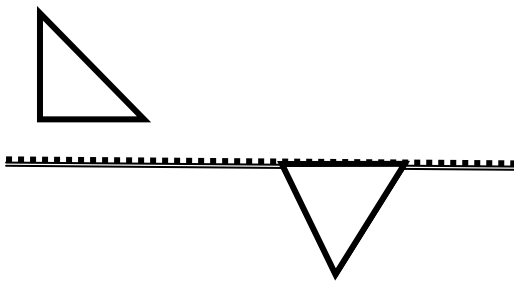
\_\_\_\_\_

2. كل أضلاع الشكل السداسي متساوية في طولها. مجموع طول ضلعين

من أضلاعه يساوي 4 سم. ما هو محيط الشكل السداسي؟



3. أرسّموا انعكاس كل شكل نسبة لخط الانعكاس المعطى:



للفحص: يمكنكم استعمال الطي والتثقيب.