

כתה ג – דף 6

1. רוני בדקה מהו סכום הכסף בקופת החסכונות שלה. היא מיינה את

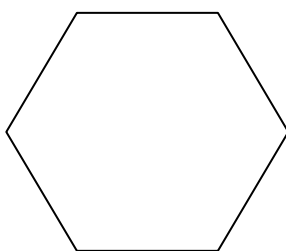
המטבעות וראתה שיש בקופה:

13 מטבעות של 10 ₪, 22 מטבעות של 1 ₪, 26 מטבעות של 5 ₪,

11 מטבעות של 2 ₪.

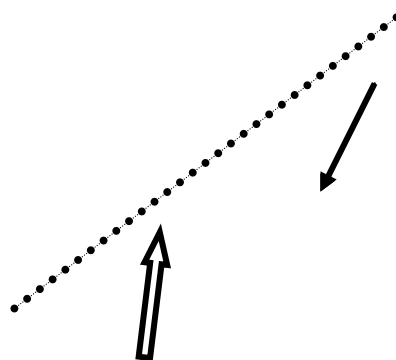
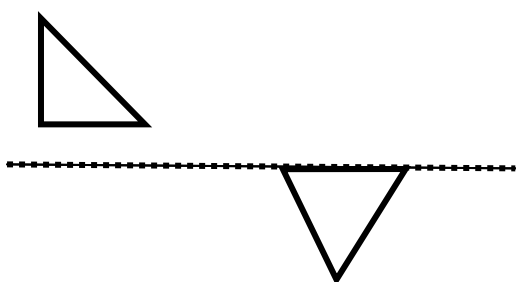
סכום הכסף הוא: _____

2. כל צלעות המשושה שוות באורך. סכום אורכי שתי צלעות הוא 4 ס"מ.



מהו היקף המשושה?

3. שרטטו את השיקוף של כל צורה יחסית לקו השיקוף הנתון:



כדי לבדוק תוכלו להיעזר בקיפול לאורך קו השיקוף וניקוב הצורות המודגשות.