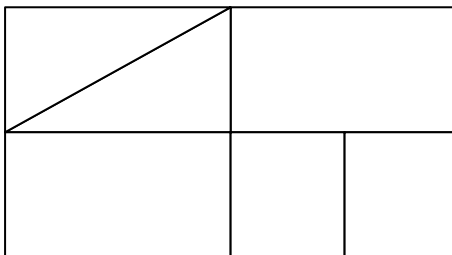
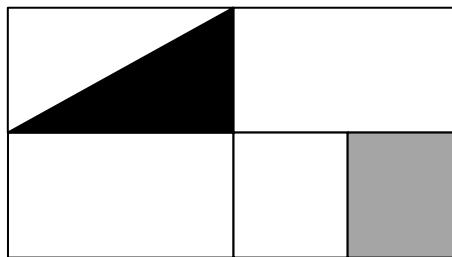


## כיתה ה' - דף מס' 1

1. א. איזה חלק מהמלבן הגדול צבוע באפור?
- ב. איזה חלק מהמלבן הגדול צבוע בשחור?
- ג. איזה חלק מהמלבן הגדול צבוע?
- ד. מה הקשר בין החלק הצבוע באפור והחלק הצבוע בשחור?

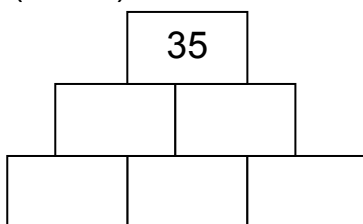


ד. צבעו בשחור  $\frac{5}{8}$  משטחו של המלבן הגדול


2. לפניכם "פירמידת מספרים". השלימו מספרים מתאימים כך ש:

- א. הסכום של כל שני מספרים במלבנים צמודים שווה למספר במלבן שמעל שניהם.
- ב. המכפלה של כל שני מספרים במלבנים צמודים שווה למספר במלבן שמעל שניהם.

ב (מכפלה)



א (סכום)



ג. כמה פתרונות שונים מצאתם לכל סעיף?