

## ورقة عمل 10 للصف الأول

1. أكتبوا عددًا مناسبًا في كل تمرين

$$\underline{\quad} + 3 = 13$$

$$18 - \underline{\quad} = 10$$

$$10 + \underline{\quad} = 15$$

$$4 + \underline{\quad} = 14$$

$$16 - \underline{\quad} = 6$$

$$15 - \underline{\quad} = 5$$

$$10 + \underline{\quad} = 17$$

$$11 + \underline{\quad} = 11$$

$$10 + \underline{\quad} = 20$$

$$6 + \underline{\quad} = 10$$

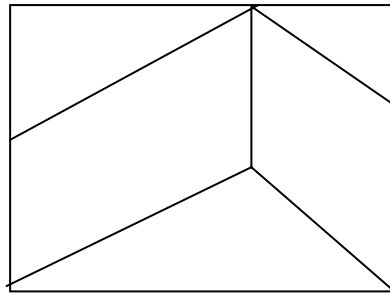
$$10 - \underline{\quad} = 5$$

$$\underline{\quad} - 3 = 7$$

$$\underline{\quad} + 3 = 10$$

$$\underline{\quad} - 1 = 10$$

$$\underline{\quad} + 3 = 13$$



2. لَوّنوا:

المثلثات بالأحمر.

الأشكال الرباعية بالأخضر.

3. أكتبوا + أو -

$$8 \quad 8 = 0$$

$$8 \quad 4 = 4$$

$$9 \quad 2 = 7$$

$$8 \quad 8 = 16$$

$$4 \quad 4 = 8$$

$$9 \quad 7 = 2$$

$$8 \quad 1 = 7$$

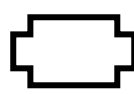
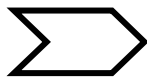
$$9 \quad 5 = 4$$

$$9 \quad 1 \quad 1 = 7$$

$$8 \quad 1 = 9$$

$$9 \quad 4 = 5$$

$$9 \quad 1 \quad 1 = 9$$



4. لَوّنوا المضلعات فقط.