

ورقة عمل 10 للصف الخامس

1. أكتبوا الأعداد الناقصة:

$$5 \times 8 + 5 \times 9 = 5 \times \underline{\quad} = \quad 5 \times 8 + 9 \times 8 = \underline{\quad} \times 8 =$$

$$7 \times 7 + 7 \times 9 = 7 \times \underline{\quad} = \quad 7 \times 9 + 9 \times 4 = \underline{\quad} \times 9 =$$

$$6 \times 4 + 6 \times 10 = 6 \times \underline{\quad} = \quad 6 \times 4 + 4 \times 9 = \underline{\quad} \times 15 =$$

$$8 \times 9 + 8 \times 5 = 8 \times \underline{\quad} = \quad 8 \times 9 + 7 \times 9 = 15 \times \underline{\quad} =$$

2. تحضيرًا لاجتماع الأهالي،

رتبت الكراسي في 8 صفوف. 9 كراسي في كل صف.

حضر إلى الاجتماع أكثر مما توقعوا فبقي 15 شخصًا واقفًا.

كم شخصًا حضر الاجتماع؟ اختاروا التمرين المناسب:

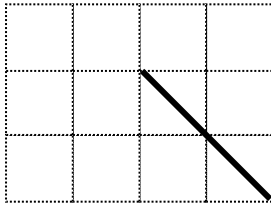
$$8 \times 9 \times 15$$

$$15 + 9 + 8$$

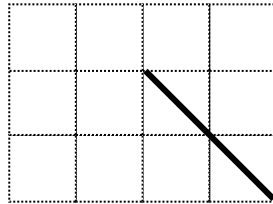
$$8 \times (9 + 15)$$

$$8 \times 9 + 15$$

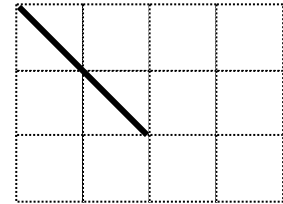
3. أكملوا الرسومات إلى:



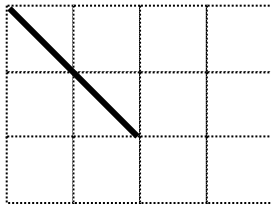
مثلث منفرج



زاوية قائمة

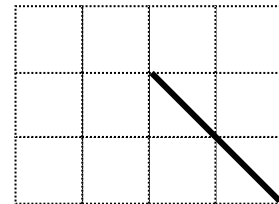


زاوية حادة
الزاوية



شكل رباعي لا

زاوية قائمة



شكل رباعي فيه زاوية قائمة

يوجد فيه