

## דף תרגול מספר 9 לכיתה ג'

### משימה 1

כתבו לכל מספר את המספר שגדול ממנו ב- 100 ואת המספר שקטן ממנו ב- 100

דוגמה

	4600	
	3254	
	1134	
	5167	
	1003	

240	340	440
	999	
	3400	
	3040	
	1080	

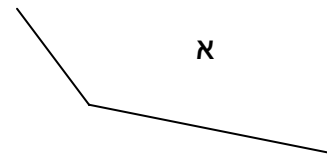
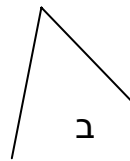
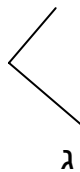
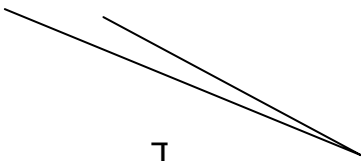
### משימה 2

השלימו את שורת הכפל הבאה (חשבו בעל-פה)

×	12	31	42	55	62	57	84	39	120
2									

### משימה 3

א. הקיפו את הזווית הקטנה ביותר מבין הזוויות שבציור:



ב. השלימו: חדה, ישרה או קהה

זווית א' היא זווית \_\_\_\_\_

זווית ב' היא זווית \_\_\_\_\_

זווית ג' היא זווית \_\_\_\_\_

זווית ד' היא זווית \_\_\_\_\_

### עבודה נעימה