

דף תרגול מספר 1 לכיתה ד'

משימה 1

חסרו 1 מכל אחד מהמספרים הבאים ורשמו את התוצאה בספרות ובמילים

התוצאה במילים	התוצאה בספרות	
		22,000
		220,000
		2,000,200
		2,020
		20,020
		200,002
		שתים עשרה אלף
		מאה אלף

משימה 2

העתיקו למחברת ופתרו בדרך הנוחה לכם.

$13 \times 4 =$

$31 \times 6 =$

$36 \times 7 =$

$7 \times 34 =$

$43 \times 9 =$

$45 \times 3 =$

$4 \times 76 =$


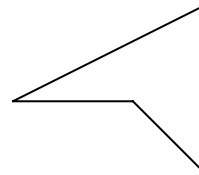
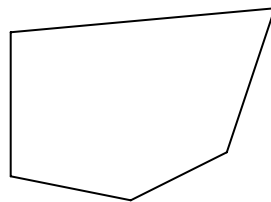

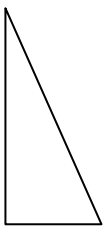
$35 \times 6 =$

$16 \times 8 =$

משימה 3

כתבו ליד כל מצולע את שמו.

סרטטו בכל מצולע את כל האלכסונים שלו.



האם יש מצולע שאין לו בכלל אלכסונים? _____

למי מהמצולעים שבסרטוט יש יותר מ- 2 אלכסונים? _____

כתבו שם של מצולע נוסף שיש לו יותר מ- 2 אלכסונים: _____

עבודה נעימה