

## דף תרגול מספר 10 לכיתה ה'

### משימה 1

השלימו בכל תרגיל את המספר החסר ופתרו:

$$5 \times 8 + 5 \times 9 = 5 \times \underline{\quad} =$$

$$5 \times 8 + 9 \times 8 = \underline{\quad} \times 8 =$$

$$7 \times 7 + 7 \times 9 = 7 \times \underline{\quad} =$$

$$7 \times 9 + 9 \times 4 = \underline{\quad} \times 9 =$$

$$6 \times 4 + 6 \times 10 = 6 \times \underline{\quad} =$$

$$6 \times 4 + 4 \times 9 = \underline{\quad} \times 15 =$$

$$8 \times 9 + 8 \times 5 = 8 \times \underline{\quad} =$$

$$8 \times 9 + 7 \times 9 = 15 \times \underline{\quad} =$$

### משימה 2

לקראת אספת הורים הכינו בבית הספר 8 שורות של כסאות.

בכל שורה 9 כסאות.

לאספה הגיעו הורים רבים ולא היו מספיק מקומות ישיבה ו- 15 הורים נאלצו לעמוד.

כמה הורים הגיעו לאספה? (בחרו את התרגיל המתאים לחישוב)

ג.  $8 \times 9 \times 15$

א.  $8 \times (9 + 15)$

ד.  $15 + 9 + 8$

ב.  $8 \times 9 + 15$

### משימה 3

לכל תרגיל כתבו שאלה שכדי לפתור אותה צריך להשתמש בתרגיל.

ג.  $(7 - 3) \times 4$

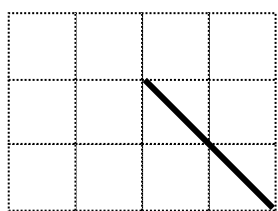
א.  $7 \times 3 \times 4$

ד.  $(7 + 3) \times 4$

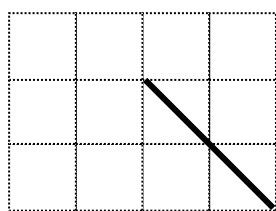
ב.  $7 + 3 \times 4$

### משימה 4

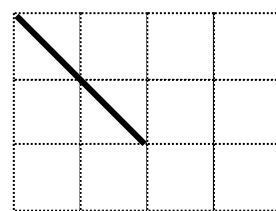
השלימו את הסרטוטים:



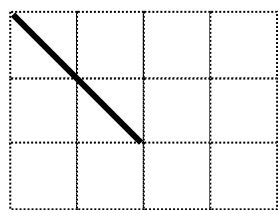
למשולש קהה זווית



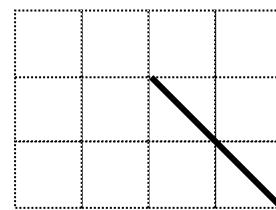
לזווית ישרה



לזווית חדה



למרובע שאין בו זווית ישרה



למרובע שיש בו זווית ישרה

### עבודה נעימה