

יש לי בעיה



פותרים בעיות
במתמטיקה

יש לי בעיה

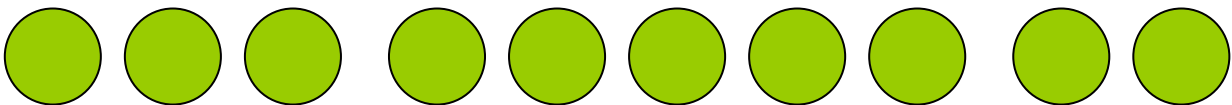
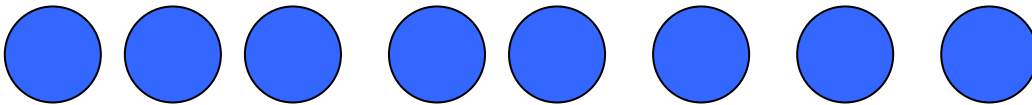

כמה שלמה המורה בסך הכל?

מורה לספורט קנתה 5 כדורים אדומים, 8 כדורים כחולים ו-10 כדורים ירוקים.
מחירים של 3 כדורים, אחד מכל צבע, 105 ש"ח.

כדור אדום וכדור כחול מחירים – 59 ש"ח.

כדור כחול וכדור ירוק מחירים - 80 ש"ח.

כמה כסף שלמה המורה בסך הכל?




בונים מספרים

כמה מספרים תלת ספרתיים ניתן לבנות בעזרת הספרות



כמה מספרים תלת ספרתיים ניתן לבנות בעזרת הספרות




יש לי בעיה

נוטעים עצים בחורשה

שתי כיתות נטעו חורשה ובה 420 עצים. בכיתה הראשונה 38 תלמידים ובשנייה 32 תלמידים.

כמה עצים נטעה הכיתה הראשונה, אם כל תלמיד נטע אותו מספר עצים?



מצאו את מספר התלמידים


בשלושה בתי ספר לומדים בסך הכל 2,160 תלמידים. מספר התלמידים בבי"ס "אלונים" גדול ב-40 מזה שבבי"ס "ברוש" בבי"ס "הדרים" לומדים 40 תלמידים יותר מאשר בבי"ס "אלונים" מה מספר התלמידים בכל אחד מבתי הספר?



יש לי בעיה

כמה עפרונות ניתן לקנות?

רונית קנתה 7 עפרונות ב- 14 ש"ח.
כמה עפרונות יכלה לקנות ב- 76 ש"ח?
כמה יכלה לקנות ב- 100 ש"ח?



מהו מספר התלמידים בממוצע?

בכיתה ה' ראשונה 34 תלמידים
בכיתה ה' שניה 33 תלמידים
בכיתה ה' שלישית 29 תלמידים.

אם מנהלת בית הספר תחלק את מספר התלמידים
בכיתות באופן שווה, כמה תלמידים יהיו בכל כיתה?

התשובה שקיבלתם נקראת ממוצע
מספר התלמידים בממוצע בכל כיתה הוא: _____



מהו מספר הפרחים בממוצע בכל זר?

דנה קנתה לכבוד שבת 3 זרי פרחים.
בזר הראשון היו 25 פרחים
בזר השני 24 פרחים
בזר השלישי 20 פרחים.

מהו מספר הפרחים בממוצע בכל זר? _____

כמה נסיעות צריך לבצע?

לנמל אשדוד הגיעה אוניה עם 30,000 טונות סחורה.
20 משאיות מעבירות את הסחורה למחסנים.
כמה נסיעות צריכה לבצע כל משאית כדי להעביר את כל
הסחורה, אם כל אחת מעמיסה 25 טונות?



כמה מ' נותרו לחילזון?

המרחק מהעץ לעמוד החשמל הוא 30 מטר.
חילזון החל לזחול מהעץ לכיוון עמוד החשמל
במהירות של 1.5 מטר לשעה.
לאחר 5 שעות נח החילזון.
כמה מטרים נותרו לו כדי להגיע עד עמוד החשמל?

כמה חולצות תפר החייט?

החייט תפר בתחילת השבוע 7 חולצות פחות מאשר באמצע השבוע.
באמצע השבוע תפר 5 חולצות יותר מאשר בסוף השבוע.
בסוף השבוע הוא תפר 64 חולצות.
כמה חולצות תפר החייט בסך הכל במשך השבוע?

כמה תרנגולות בלולים?

בכל לול היו בתחילת השבוע 121 תרנגולות.
במשך השבוע הכניסו לכל לול עוד 20 תרנגולות.
כמה תרנגולות היו בסוף השבוע ב-30 לולים?



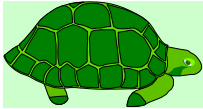
יש לי בעיה

כמה ישלם הנגר?

לנגר היו 50 מדפים.
לכל מדף רצה הנגר להבריג 4 ברגים.
מחיר כל בורג חצי שקל.
כמה ישלם הנגר עבור הברגים?



הצב הזוחל



צב זוחל במשך יום 3 מטרים קדימה, ובמשך הלילה חוזר 2 מטר אחורה.
לאחר כמה זמן יתקדם הצב 10 מטרים קדימה?

מהו היקף השדה?

לשדה של מר ירקוני צורת מקבילית.
אורך צלע אחת 1400 מ' ואורכה של הצלע השניה 760 מ'.
מה היקף השדה?



יש לי בעיה

מהו שטח השדה?

מהו שטחו של שדה שצורתו מלבן,
אם אורכו 2 ק"מ ורוחבו 1200 מ'



מה גודלה של הזווית?

רונית שרטטה זווית בת 154 מעלות.
מה גודלה של הזווית הצמודה לה?
הסבירו.

כמה שתילי עגבניות שתל בסך הכל?

חקלאי שתל ביום הראשון 360 שתילי עגבניות.
ביום השני שתל ב- 68 שתילים יותר וביום השלישי מחצית
הכמות ששתל בשני הימים הראשונים.
כמה שתילי עגבניות שתל החקלאי בסך הכל?

יש לי בעיה

כמה תלמידים משתתפים במקהלה?

בשכבת כיתות ה' לומדות 2 כיתות.
 בכיתה ה' ראשונה 32 תלמידים.
 בכיתה ה' שניה ב - 2 תלמידים יותר.
 שלישי מתלמידי השכבה משתתפים במקהלת בית הספר.
 כמה תלמידים משתתפים במקהלה?
 כמה תלמידים אינם משתתפים במקהלה?



כמה עמודים קרא יוני?

יוני קרא בשעות הבוקר 162 עמודים
 בספר הרפתקאות.

אחר הצהרים הוא קרא בשליש פחות משעות הבוקר.
 כמה עמודים קרא בסך הכל?

באיזו שעה סיים נועם להתעמל?

נועם התחיל להתעמל ב- 8:25 בבוקר וסיים כעבור 46 דקות.
 באיזו שעה סיים להתעמל?