

קורס מתקשב להכשרת מורים מובילים
לטיפול בקשיים בגיאומטריה בשעות פרטניות
שנה"ל תשע"ג

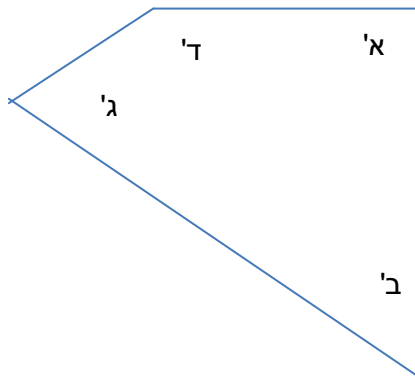
מפגש 1 – משימה 1

לפניכם ארבע שאלות בנושא זוויות. עבור כל שאלה עליכם לכתוב:

- מהי התשובה הנכונה.
- מה תהיה שגיאה נפוצה? הסבירו.

שאלה א

הזווית הגדולה ביותר במרובע שבסרטוט היא:



- זווית א'
- זווית ב'
- זווית ג'
- זווית ד'

תשובה נכונה:

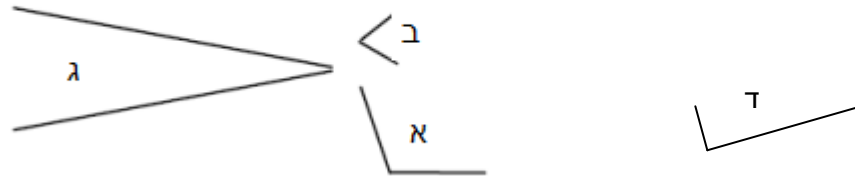
שגיאה נפוצה:

הסבר מדוע תופיע השגיאה:

קורס מתוקשב להכשרת מורים מובילים
לטיפול בקשיים בגיאומטריה בשעות פרטניות
שנה"ל תשע"ג

שאלה ב

סדרו את הזוויות הנתונות לפי גודלן.

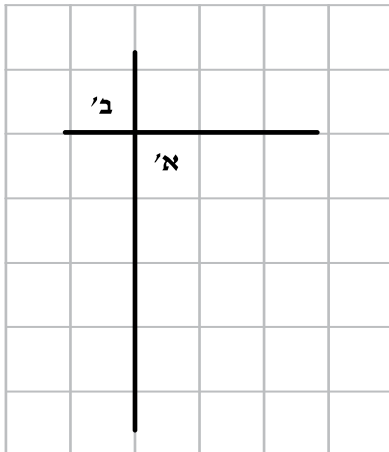


תשובה נכונה:

שגיאה נפוצה:

הסבר מדוע תופיע השגיאה:

שאלה ג



לפניכם סרטוט של שני ישרים.

סמנו את המשפט הנכון.

1. זווית א' גדולה מזווית ב'.
2. זווית ב' גדולה מזווית א'.
3. זווית א' וזווית ב' שוות בגודלן.

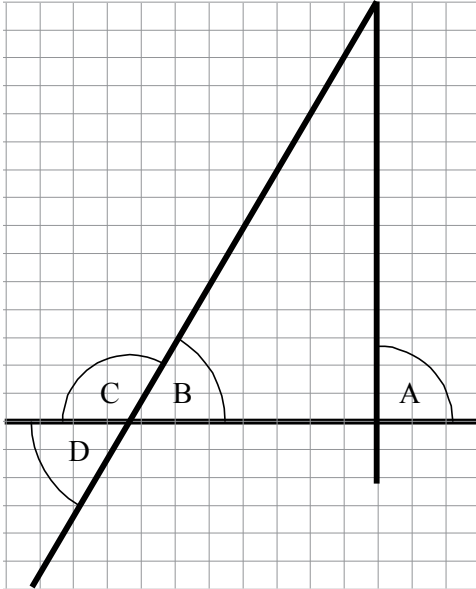
תשובה נכונה:

שגיאה נפוצה:

הסבר מדוע תופיע השגיאה:

קורס מתוקשב להכשרת מורים מובילים
לטיפול בקשיים בגיאומטריה בשעות פרטניות
שנה"ל תשע"ג

שאלה ד



התייחסו בסרטוט לזוויות
המסומנות באותיות, והשלימו:

- א. הזווית הגדולה ביותר
מסומנת באות _____ .
- ב. הזווית שגודלה 90°
מסומנת באות _____ .

תשובה נכונה:

שגיאה נכונה:

הסבר מדוע תופיע השגיאה: