
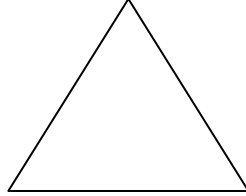


ثلاثة مضلعات

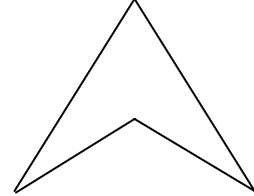
أمامكم ثلاثة مضلعات:



ج



ب



أ

أي مضلع هو الشاذ؟ لماذا؟

أعدت الفعالية من المقال:

Implications of Research on Children's Understanding of Geometry

تأليف: Thomas B. Fox

ظهر في مجلة: *Teaching Children Mathematics*, May, 2000