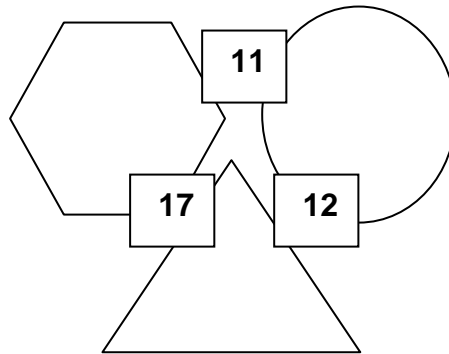
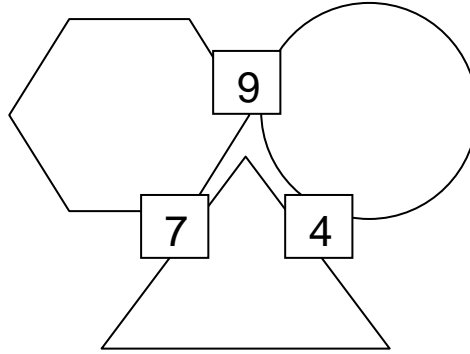
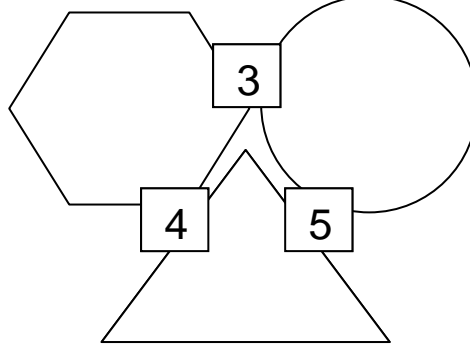


حواصل جمع وأشكال

تظهر في كل بند الأشكال: مثلث، مسدس، دائرة. أكتبوا عددًا داخل كل شكل، بحيث يكون حاصل جمع العددين في كل شكلين يساوي العدد الذي في المربع الذي بينهما.



أكتبوا أسئلة شبيهة من عندكم.

المصدر: Drill and Practice

By: R.W. Wirtz, Curriculum Development Associates, 1974