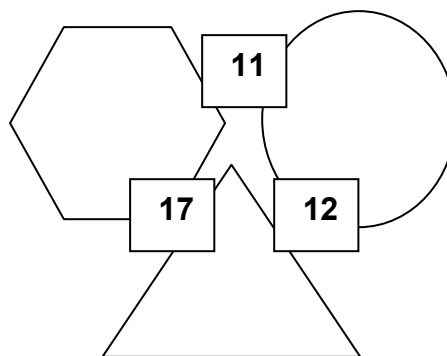
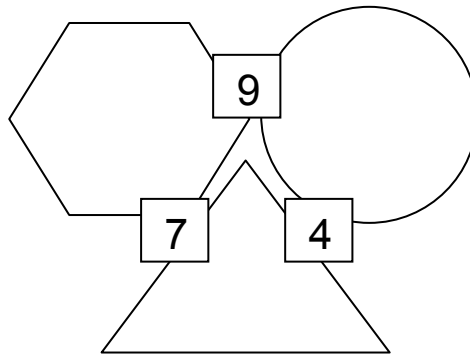
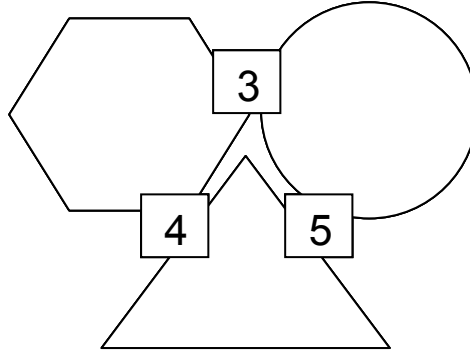


סכומים וצורות

בכל סעיף מופיעות הצורות משולש, משושה ועיגול.
כתבו מספר בתוך כל צורה, כך שסכום המספרים בכל שתי צורות יופיע בריבוע שביניהן.



המציאו שאלות דומות משלכם.

הפעילות עובדה מתוך החוברת: **Drill and Practice**
By: R.W. Wirtz, Curriculum Development Associates, 1974