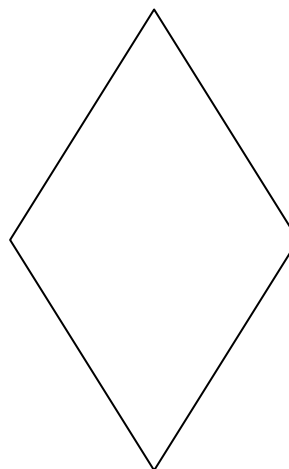




1. תנו לכל מרובע שמות שונים, רבים ככל האפשר:



מחסן שמות: מלבן, ריבוע, דלתון, מעויין, מקבילית
איזה מרובע קיבל הכי הרבה שמות?

2. השתמשו בספרות: 2, 4, 6, 8, 9 כל ספרה פעם אחת בכל סעיף, כדי לקבל את התוצאה **הקטנה ביותר**:

א. $\underline{\quad}.\underline{\quad} + 0.7 \underline{\quad} =$

ב. $\underline{\quad}.\underline{\quad} + \underline{\quad} 5.3 \underline{\quad} =$

ג. $\underline{\quad}.\underline{\quad} - \underline{\quad}.\underline{\quad} =$

ד. $\underline{\quad} 1.\underline{\quad} - \underline{\quad}.\underline{\quad} 8 =$

3. דנית החסכנית חסכה בחודש ינואר 20 שקלים, בחודש פברואר 40 שקלים, בחודש מרץ 60 שקלים, וכן הלאה. כמה שקלים תחסוך דנית במשך שנה שלמה?